

Examenul de bacalaureat 2011
Proba E.d)
Proba scrisă la GEOGRAFIE

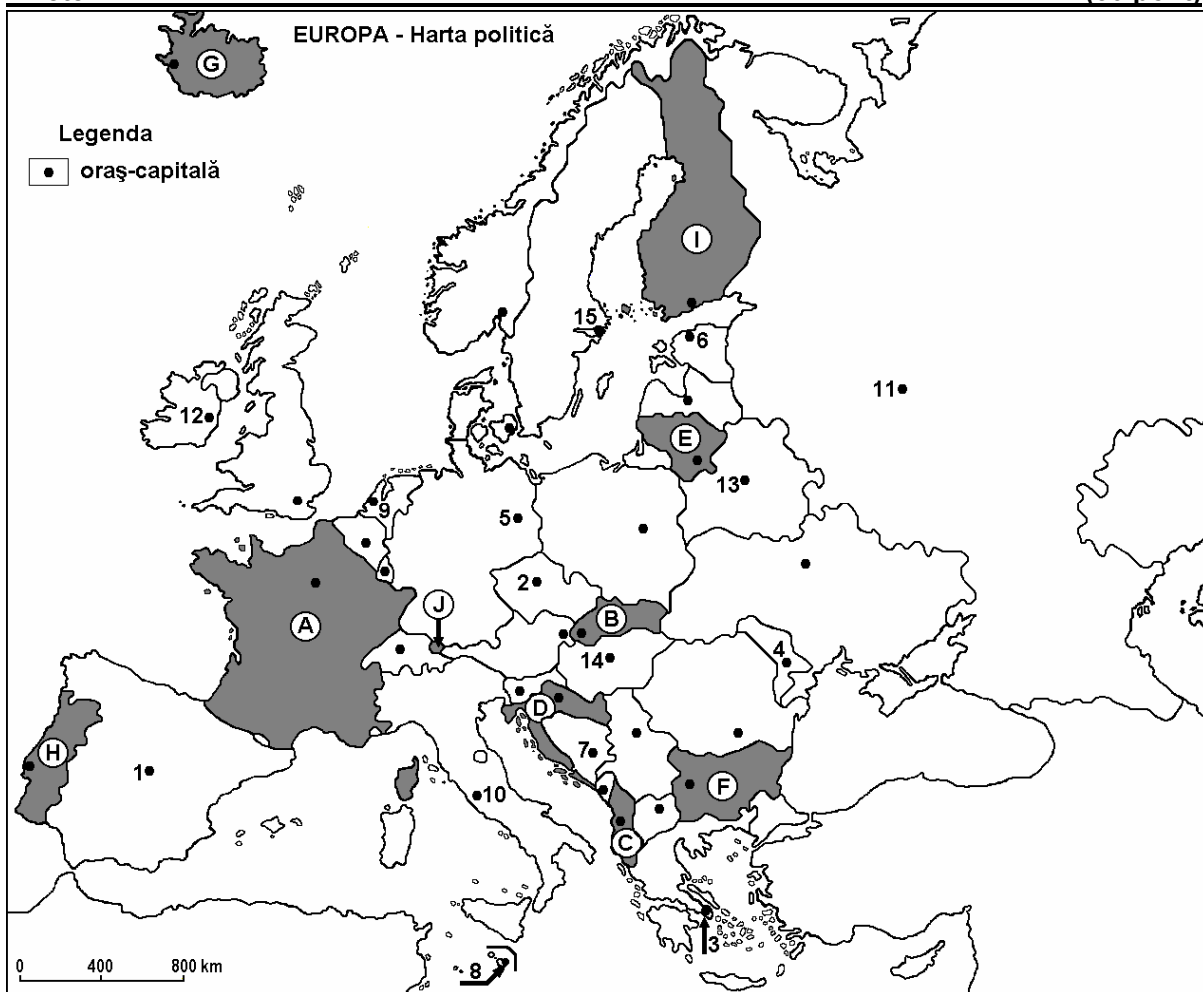
Varianta 3

Filiera teoretică, profilul umanist, specializările: filologie, științe sociale; filiera tehnologică, profilul servicii, toate specializările; Filiera vocațională: profil artistic, specializările: muzică, coregrafie, arta actorului, arhitectură, arte ambientale și design, arte plastice, arte decorative; profil sportiv, toate specializările; profil pedagogic, specializările: învățător/educatoare, bibliotecar-documentarist, instructor-animator, instructor pentru activitățile extrașcolare, pedagog școlar; profil ordine și securitate publică (Licee ale Ministerului Administrației și Internelor) specializarea științe sociale; profil teologic, toate specializările.

- Toate subiectele sunt obligatorii. Se acordă 10 puncte din oficiu.
- Timpul efectiv de lucru este de 3 ore.

I. Tétel

(30 pont)



A fenti térkép az I. Tétel A-D pontjaira vonatkozik. A térképen az országok betűkkel, a fővárosok számokkal vannak megjelölve.

A. Nevezétek meg:

1. az I betűvel jelölt országot;
2. az 5 számmal jelölt fővárost.

4 pont

B. Îrjați a vizgalapra az alábbi mondatokat kiegészítő helyes válaszokat:

1. Vatikán állam a ... számmal jelölt főváros területén található.
2. A H betűvel jelölt állam fővárosa ...
3. Minszk fővárost a térképen a ... szám jelöli.

6 pont

C. Îrjați a vizgalapra a helyes válaszok betűjelét:

1. Európa legnépesebb fővárosát a következő szám jelöli:

a. 1 b. 3 c. 11 d. 12 **2 pont**

2. A Balkán-hegység (Stara Planina) a következő betűvel jelölt ország területén húzódik:

a. B b. D c. F d. H **2 pont**

3. A tundra növényzet a következő betűvel jelölt ország partvidékére jellemző:

a. C b. D c. F d. G **2 pont**

4. A J betűvel jelölt ország neve:

a. Liechtenstein b. Luxemburg c. Monaco d. San Marino **2 pont**

5. A térképen 8-as számmal jelölt főváros neve:

a. Nikoszia b. Palermo c. Palma de Mallorca d. Valletta **2 pont**

D. Írjați három különbséget a térképen A és I betűkkel jelölt országok éghajlata között.

1 Megjegyzés: A különbségek a következő éghajlati elemek bármelyikére vonatkozhatnak: éghajlati típus, éghajlati emelet, éghajlati tényezők, évi/nyári/téli középhőmérsékletek, hőmérsékleti amplitúdó, évi/nyári/téli átlagos csapadék, gyakori szelek.

2 Megjegyzés: A teljes pontszám csak abban az esetben adható meg, ha a különbségek összehasonlítóképpen és nem külön-külön vannak leírva. **6 pont**

E. Írjați le:

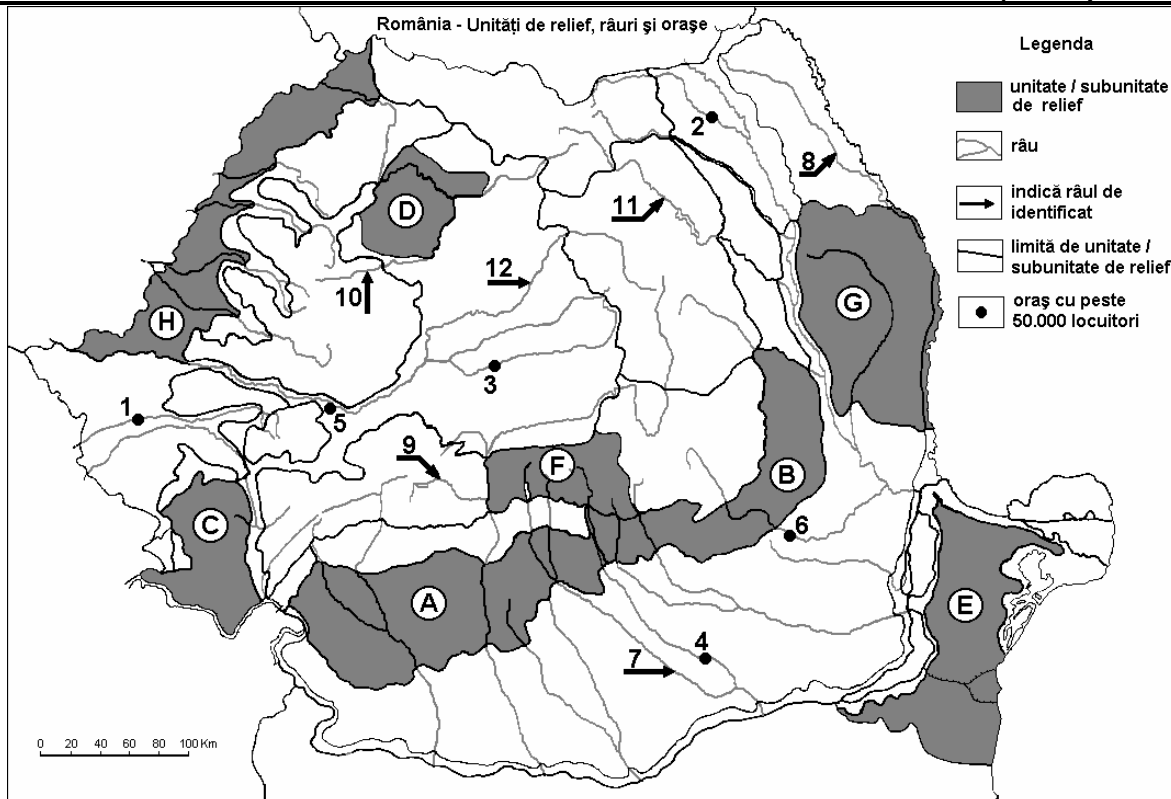
1. egy okot, amiért Európa népessége előregedik;
2. egy tényezőt, amely meghatározta a glaciális domborzat kialakulását a Skandináv-hegységben.

2 pont

2 pont

SUBIECTUL al II-lea

(30 de puncte)



Harta de mai sus se referă la subiectul II A – E. Pe hartă sunt marcate unități de relief cu litere, orașe cu numere de la 1 la 6 și râuri cu numere de la 7 la 12.

A. Precizați:

1. numele orașului marcat, pe hartă, cu numărul **1**;
2. numele râului marcat, pe hartă, cu numărul **11**. **4 puncte**

B. Scrieți, pe foaia de examen, răspunsurile corecte care completează afirmațiile de mai jos:

1. Râul marcat, pe hartă, cu numărul **12** se numește ...
2. Relief glaciar există în unitatea de relief marcată, pe hartă, cu litera ...
3. Orașul cu cel mai mare număr de locuitori este marcat, pe hartă, cu numărul ... **6 puncte**

C. Scrieți, pe foaia de examen, litera corespunzătoare răspunsului corect pentru fiecare dintre afirmațiile de mai jos:

1. Petrol se exploatează din unitatea de relief marcată, pe hartă, cu litera:
a. B b. C c. D d. F **2 puncte**
2. Orașul marcat, pe hartă, cu numărul **3** se numește:
a. Alba Iulia b. Cluj-Napoca c. Mediaș d. Târgu Mureș **2 puncte**
3. Vegetația de stepă se dezvoltă în unitatea de relief marcată, pe hartă, cu litera:
a. A b. B c. D d. E **2 puncte**
4. Râul marcat, pe hartă, cu numărul **9** se numește:
a. Cerna b. Cibin c. Lotru d. Motru **2 puncte**
5. Orașul Bârlad este situat în unitatea de relief marcată, pe hartă, cu litera:
a. A b. B c. G d. H **2 puncte**

D. Precizați trei deosebiri între relieful unității marcate, pe hartă, cu litera **A și relieful unității marcate, pe hartă, cu litera **E**.**

Nota 1: Deosebirile se pot referi la oricare dintre următoarele aspecte ale reliefului: mod de formare, tipuri de roci pe care s-a format relieful, altitudini, fragmentare, tipuri de relief, înclinare, dispunerea depresiunilor, alte aspecte specifice ale reliefului.

Nota 2: Punctajul complet va fi acordat numai dacă cele trei deosebiri vor fi prezentate comparativ și nu separat. **6 puncte**

E. Prezentați:

1. un factor natural care favorizează cultivarea, pe suprafețe extinse, a viței de vie în unitatea de relief marcată, pe hartă, cu litera **B**; **2 puncte**
2. o cauză care a determinat amplasarea unor termocentrale mari în unitatea de relief marcată, pe hartă, cu litera **A**. **2 puncte**

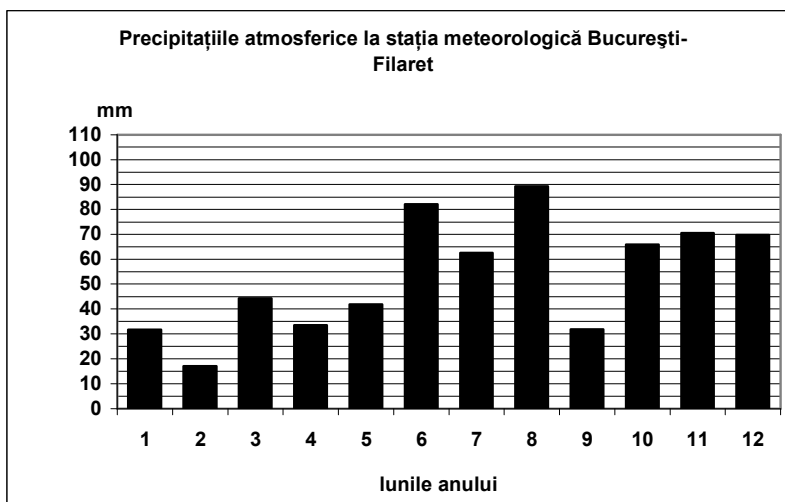
III. Tétel **(30 pont)**

A mellékelt grafikon a III. tétel A-B pontjaira vonatkozik és Bukarest-Filaret meteorológiai állomás havi átlagos csapadékanak a változását mutatja.

A. Határozzátok meg:

1. a havi átlagos csapadék maximum értékét és a hónapot, amikor azt mérték,
2. a havi átlagos csapadék minimum értékét és a hónapot, amikor azt mérték.

4 pont



B. Határozzátok meg:

1. június és július hónapok átlagos csapadék értékeinek különbségét;
2. a havi átlagos csapadék maximum és minimum értékeinek különbségét;
3. azt a két hónapot, amikor az átlagos csapadéértékek egyenlőek.

6 pont

C. Jellemezzétek Nagy-Britanniát és Észak-Írországot és írjátok le:

1. három tájegységüknek a nevét;
2. egy folyójuknak a nevét;
3. éghajlattípusukat és az uralkodó szél nevét;
4. négy városuknak a nevét.

10 pont

D. Az alábbi táblázat Németország és Finnország területét és lakosságának számát mutatja, 2008 július 1-én.

Ország	Terület (km²)	Lakosság (fő)
Németország	357.114	82.200.000
Finnország	338.419	5.300.000

*Forrás: Országos Statisztikai Hivatal, 2009-re vonatkozó becslések
Megjegyzés: A lakosságra vonatkozó adatok kerekítettek.*

1. Számítsátok ki Németország és Finnország népsűrűségét.
2. Írjátok egy okot, amiért Finnországnak alacsony a népsűrűsége.

6 pont

E. Írjátok két tényezőt, amelyek meghatározzák a vasúti és közúti közlekedési hálózat egyenlőtlen eloszlását Európában.

4 pont