

Examenul de bacalaureat 2012
Proba E.d)
Proba scrisă la GEOGRAFIE

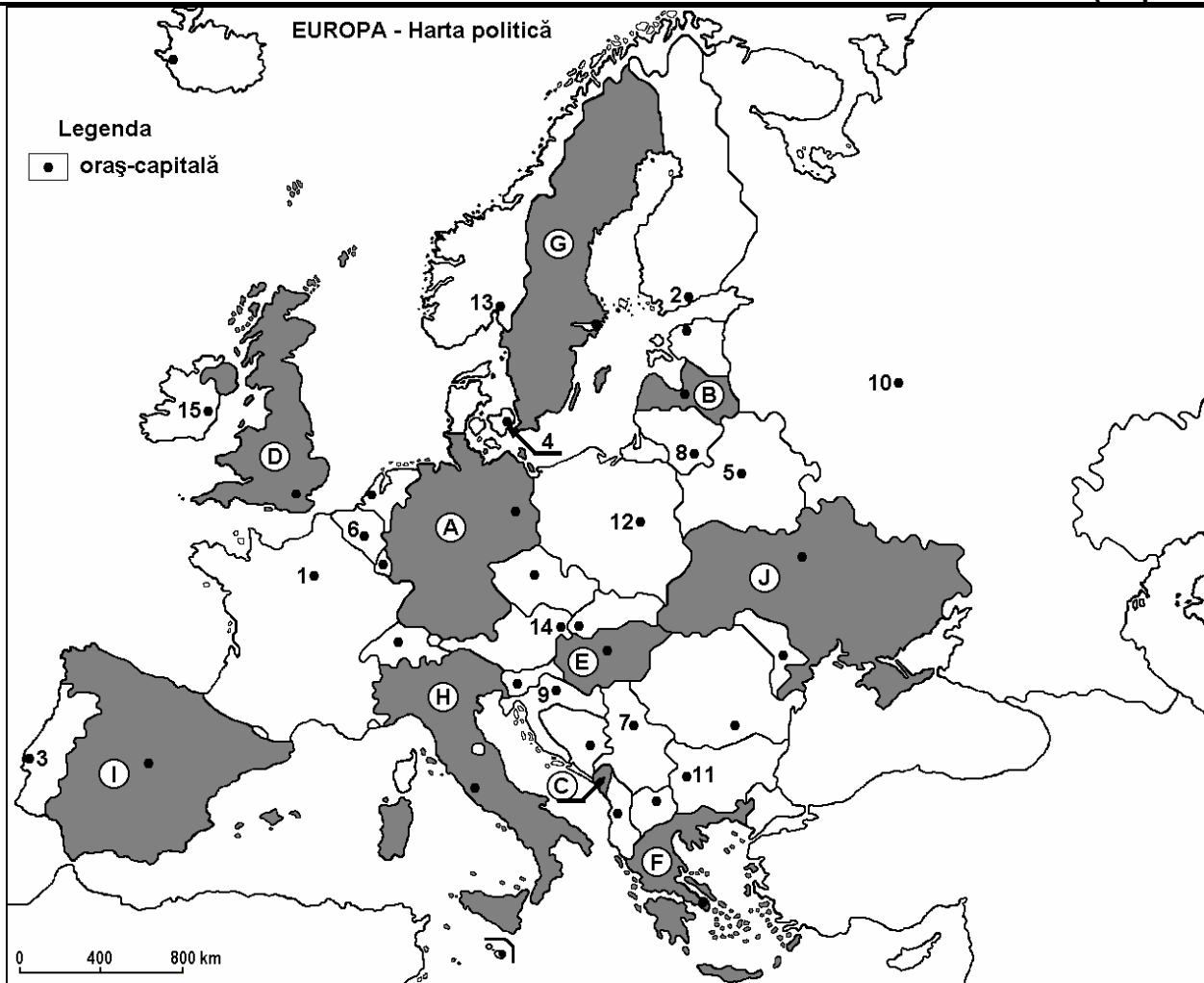
Varianta 4

Filiera teoretică, profilul umanist, specializările: filologie, științe sociale; filiera tehnologică, profilul servicii, toate specializările; Filiera vocațională: profil artistic, specializările: muzică, coregrafie, arta actorului, arhitectură, arte ambientale și design, arte plastice, arte decorative; profil sportiv, toate specializările; profil pedagogic, specializările: învățător/educatoare, bibliotecar-documentarist, instructor-animator, instructor pentru activitățile extrașcolare, pedagog școlar; profil ordine și securitate publică (Licee ale Ministerului Administrației și Internelor) specializarea științe sociale; profil teologic, toate specializările.

- Toate subiectele sunt obligatorii. Se acordă 10 puncte din oficiu.
- Timpul efectiv de lucru este de 3 ore.

I. Tétel

(30 pont)



A fenti térkép az I. Tétel A-D pontjaira vonatkozik. A térképen az országokat betűk, a fővárosokat számok jelölik.

A. Nevezétek meg:

1. a térképen I betűvel jelölt országot;
2. a térképen 10-es számmal jelölt fővárost.

4 pont

B. Írjátok a vizsgalapra az alábbi mondatokat kiegészítő helyes válaszokat:

1. A térképen 4-es számmal jelölt város, ... fővárosa.

2. Az **E** betűvel jelölt ország neve ...

3. A térképen 1-es számmal jelölt város neve ...

6 pont

C. Írjátok a vizsgalapra a helyes válaszok betűjelét:

1. A **H** betűvel jelölt ország területén húzódó hegység neve:

a. Appenninek b. Balkán c. Kárpátok d. Pireneusok 2 pont

2. Zágrábot a térképen a következő szám jelöli:

a. 7 b. 9 c. 11 d. 14 2 pont

3. A **B** betűvel jelölt országnak kijárata van a következő tengerre:

a. Fehér- b. Azovi- c. Balti- d. Északi- 2 pont

4. A térképen **C** betűvel jelölt ország neve:

a. Albánia b. Montenegró c. San Marino d. Szlovénia 2 pont

5. Sztjepp növényzet jellemző a következő betűvel jelölt országra:

a. D b. F c. G d. J 2 pont

D. Írjátok három különbséget a térképen **D** és **F** betűkkel jelölt országok **éghajlata** között.

1. **Megjegyzés:** A különbségek a következő éghajlati elemek bármelyikére vonatkozhatnak: éghajlati tényezők, éghajlati típus, évi/nyári/téli középhőmérsékletek, hőmérsékleti amplitúdó, évi/nyári/téli átlagos csapadék, gyakori szelek.

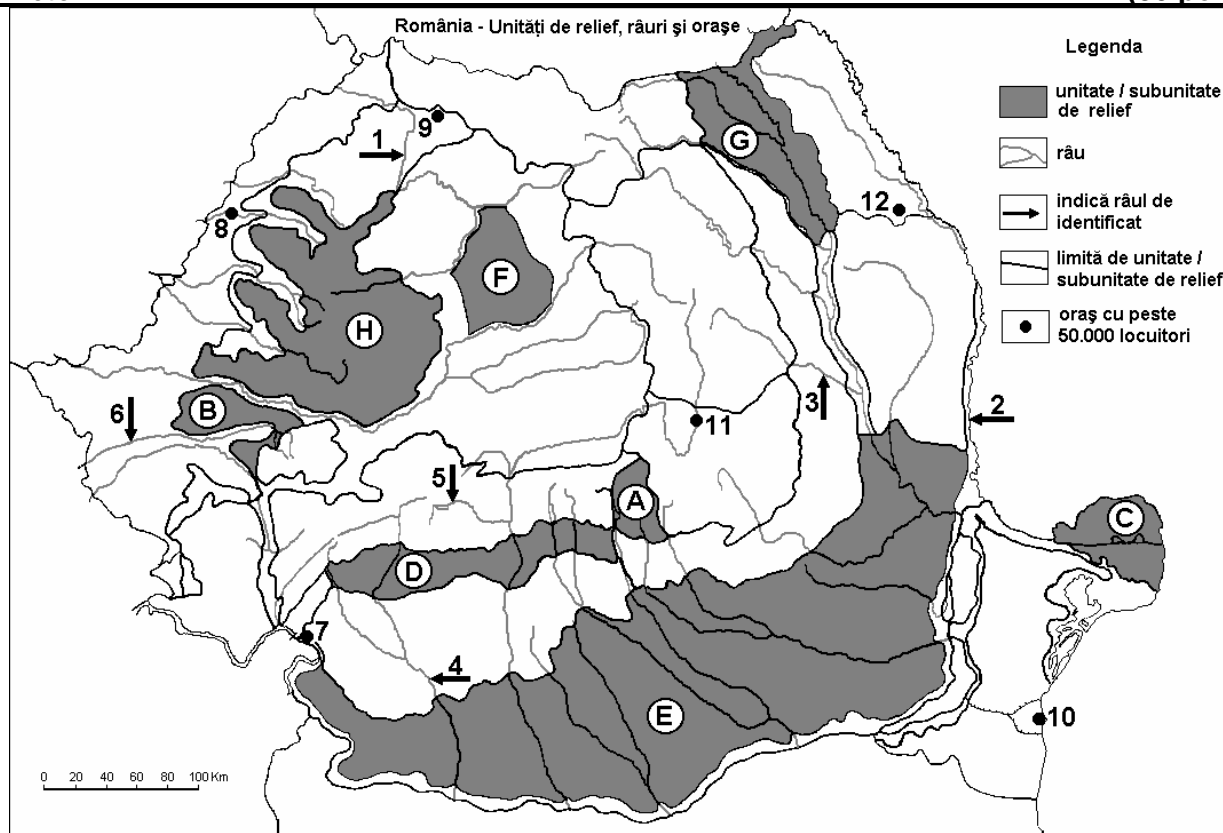
2. **Megjegyzés:** A teljes pontszám csak abban az esetben adható meg, ha a különbségek összehasonlítóképpen és nem külön-külön vannak leírva.

6 pont

E. Írjátok két tényezőt, amelyek befolyásolják a népesség egyenlőtlen eloszlását az európai térségben. 4 pont

II. Tétel

(30 pont)



A fenti térkép a II. Tétel A-E pontjaira vonatkozik. A térképen a tájegységeket betűk, a folyókat 1-6, a városokat pedig 7-12 számok jelölik.

A. Nevezzétek meg:

1. a térképen **8**-as számmal jelölt várost;
2. a térképen **2**-es számmal jelölt folyót. **4 pont**

B. Írjátok a vizsgalapra az alábbi mondatokat kiegészítő helyes válaszokat:

1. A legnépesebb város, amelyen áthalad a **6**-os számmal jelölt folyó ...
2. A térképen **1**-es számmal jelölt folyó neve ...
3. A térképen **12**-es számmal jelölt város neve ...

6 pont

C. Írjátok a vizsgalapra a helyes válaszok betűjelét:

1. Az **5**-ös számmal jelölt folyó neve:
a. Cserna (Cerna) b. Lotru c. Motru d. Sebes (Sebeș) **2 pont**
2. A legalacsonyabban fekvő várost a térképen a következő szám jelöli:
a. 7 b. 9 c. 10 d. 11 **2 pont**
3. Aranyat, ezüstöt és komplex érceket bányásznak a következő tájegység altalajából:
a. A b. E c. G d. H **2 pont**
4. A **11**-es számmal jelölt város neve:
a. Brassó (Brașov) b. Buzău
c. Csíkszereda (Miercurea Ciuc) d. Sepsiszentgyörgy (Sfântu Gheorghe) **2 pont**
5. A **3**-as számmal jelölt folyó a következő folyó mellékfolyója:
a. Bârlad b. Beszterce (Bistrița) c. Bodza (Buzău) d. Szeret (Siret) **2 pont**

D. Írjátok három különbséget a térképen **A** és **D** betűkkel jelölt tájegységek **domborzata** között.

1. **Megjegyzés:** A különbségek a domborzat következő jellemzőire vonatkozhatnak: kialakulási mód, közzettani felépítés, magasságok, tagoltság, domborzati típusok, a hegységek és a fontosabb völgyek iránya, a medencék elhelyezkedése, más domborzati jellemzők.

2. **Megjegyzés:** A teljes pontszám csak abban az esetben adható meg, ha a különbségek összehasonlítóképpen és nem külön-külön vannak leírva.

6 pont

- E. 1.** Magyarazzátok meg, hogy a térképen **9**-es számmal jelölt városban miért építettek egy szinesfémkohászati kombinátot. **2 pont**
2. Írjátok egy okot, amiért a **C** betűvel jelölt tájegységben alacsony a népsűrűség. **2 pont**

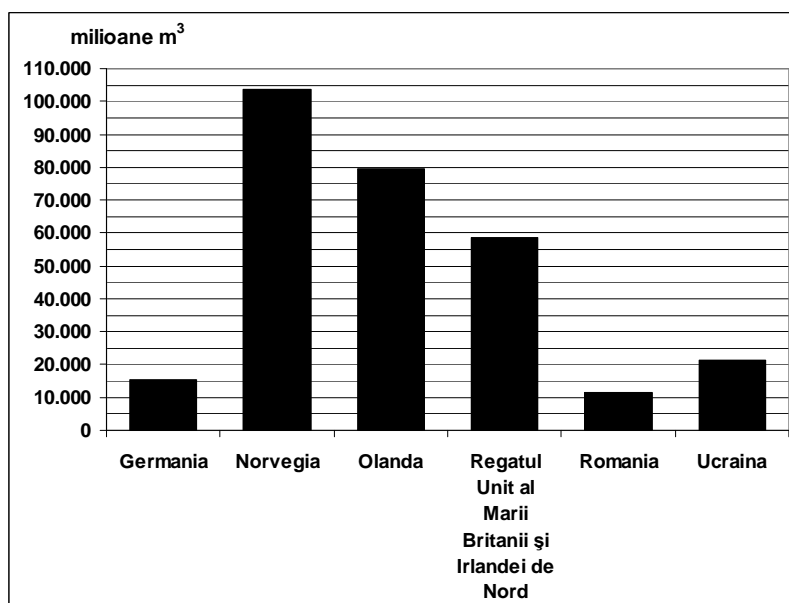
III. Tétel

(30 pont)

A mellékelt grafikon a **III. Tétel A-B** pontjaira vonatkozik és néhány európai ország földgáz kitermelését ábrázolja (millió m³).

A. Írjátok le a földgáz-kitermelésben első két ország nevét, és mindkét országban a kitermelt mennyiségeket.

4 pont



- B.** 1. Írjátok két tájegységet (vagy altájegységet), ahol földgáztermelnek ki Romániában.
2. Említsetek meg két olyan iparágat, amelyek földgáztermelőnek Romániában.
3. Írjátok le annak a térségnek a nevét, ahol földgáztermelnek ki Norvégiában.

6 pont

- C.** Jellemezzétek **Nagy-Britannia és Észak-Írország Egyesült Királyságát** és írjátok le:

1. három tájegységének a nevét;
2. egy folyójának a nevét;
3. négy városának a nevét;
4. államformáját;
5. éghajlati típusát.

10 pont

- D.** Adott az alábbi táblázat:

Ssz.	Ország	Terület (km ²)	Lakosság (fő)
1	Finnország	338.145	5.231.000
2	Hollandia	41.526	16.491.000

Forrás: The World Factbook, 2006-ra vonatkozó becslések

Megjegyzés: A lakosságra vonatkozó adatok kerekítettek

1. Számítsátok ki Finnország átlagos népsűrűségét.
2. Számítsátok ki Hollandia átlagos népsűrűségét.
3. Írjátok egy okot, amiért Finnország és Hollandia átlagos népsűrűsége különböző értékű.

6 pont

- E.** 1. Írjátok le a vízi energia hasznosításának két előnyét, a villamosenergia termelésben hasznosított más energiaforrásokhoz viszonyítva.

2 pont

2. Magyarázzátok meg, hogy, habár Lengyelország uralkodó domborzati formája az alföld, ez az ország mégsem nagy gabonatermelő.

2 pont