

Examenul de bacalaureat național 2015
Proba E. d)
Geografie

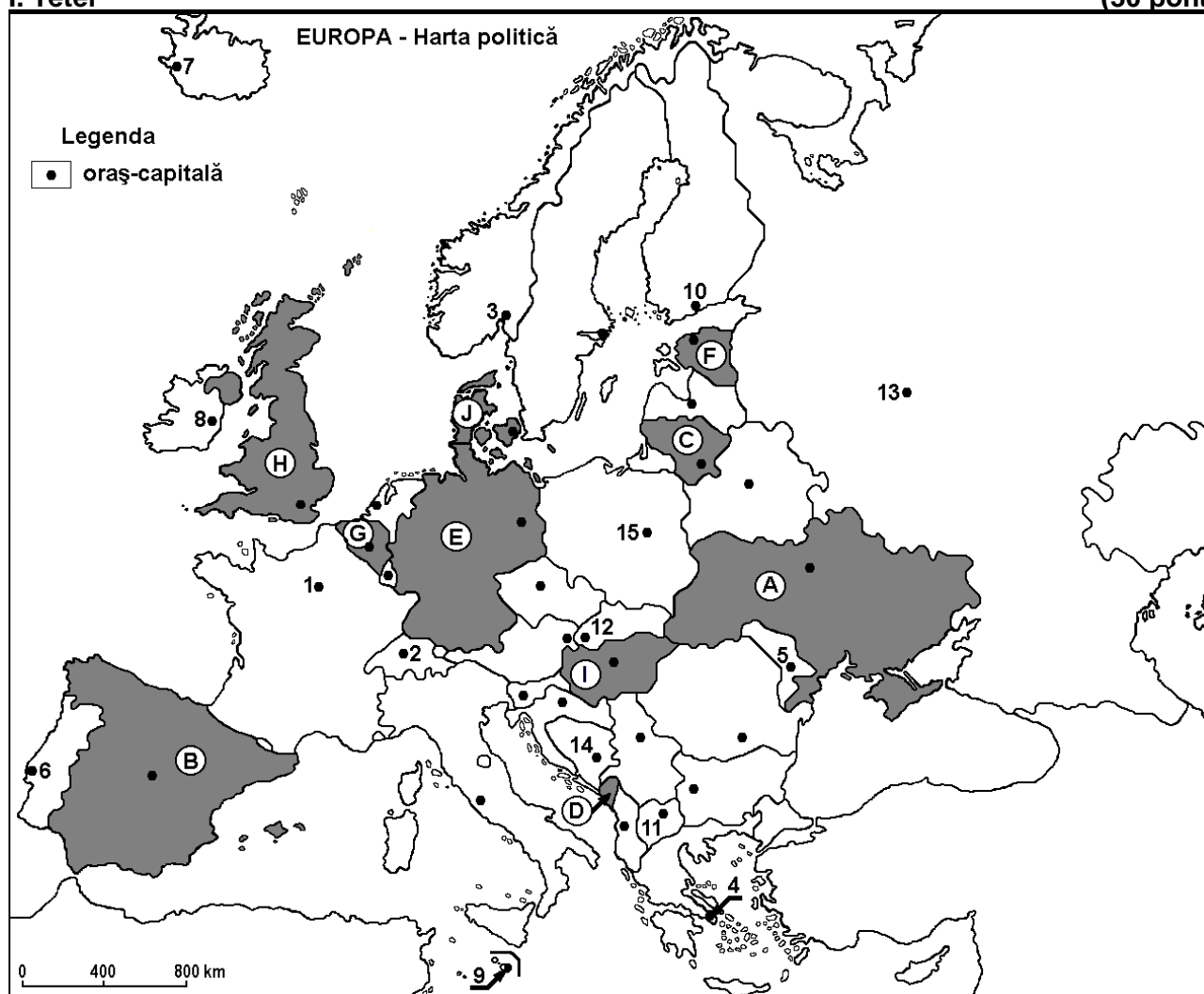
Simulare

Profilul umanist din filiera teoretică, profilul servicii din filiera tehnologică și toate profilurile și specializările din filiera vocațională, cu excepția profilului militar

- Toate subiectele sunt obligatorii. Se acordă 10 puncte din oficiu.
- Timpul efectiv de lucru este de 3 ore.

I. Tétel

(30 pont)



A fenti térkép az I. tétel A-D pontjaira vonatkozik. A térképen az országokat betűk, a fővárosokat számok jelölik.

A. Nevezétek meg:

1. a térképen G betűvel jelölt országot;
2. a térképen 2-es számmal jelölt fővárost.

4 pont

B. Írjátok a vizsgalapra az alábbi mondatokat kiegészítő helyes válaszokat:

1. A térképen J betűvel jelölt ország fővárosa ...
2. A Mátra hegység a következő betűvel jelölt ország területén húzódik ...
3. A térképen F betűvel jelölt ország neve ...

6 pont

C. Írjátok a vizsgalabra az alábbi állítások mindegyikére vonatkozó helyes válasz betűjelét:

1. Európa legnépesebb városát a térképen a következő szám jelöli:
a. 6 b. 10 c. 13 d. 15 **2 pont**
2. A térképen a 9-es szám jelöli a következő ország fővárosát:
a. Ciprus b. Liechtenstein c. Málta d. Monaco **2 pont**
3. A térképen D betűvel jelölt ország fővárosa:
a. Ljubljana b. Podgorica c. Szarajevó d. Tirana **2 pont**
4. A mediterrán éghajlat jellemző a következő számmal jelölt fővárosra:
a. 1 b. 3 c. 4 d. 5 **2 pont**
5. A Podóliai- hátság a következő betűvel jelölt ország területén található:
a. A b. B c. E d. I **2 pont**

D. Írjatok két különbséget és egy hasonlóságot a térképen B és H betűkkel jelölt országok éghajlata között.

1 Megjegyzés: A különbségek és a hasonlóság a következő éghajlati elemek bármelyikére vonatkozhatnak: éghajlati tényezők, éghajlati típus, évi/nyári/téli középhőmérsékletek, hőmérsékleti amplitúdó, évi/nyári/téli átlagos csapadék, gyakori szelek.

2 Megjegyzés: A teljes pontszám csak abban az esetben adható meg, ha a különbségek és a hasonlóság összehasonlítóképpen és nem külön-külön vannak leírva.

6 pont

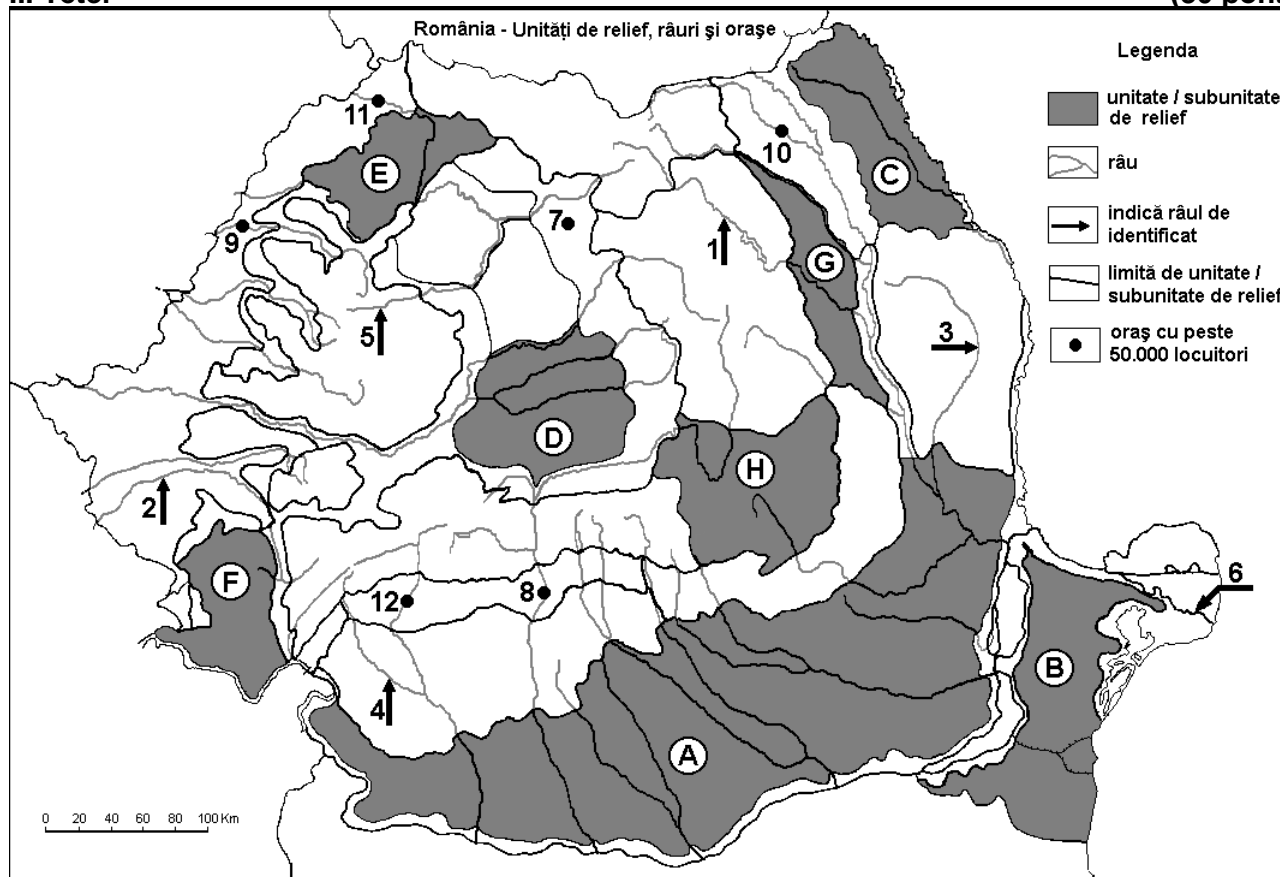
E. Magyarazzátok meg:

1. hogy Írország mezőgazdasága miért az állattenyésztésre szakosodott;
2. a glaciális tavak jelenlétét a Kelet-európai síkság északi részén.

4 pont

II. Tétel

(30 pont)



A fenti térkép a II. Tétel A-D pontjaira vonatkozik. A térképen a domborzati egységeket betűk, a folyókat 1-6-os, a városokat pedig 7-12-es számok jelölik.

A. Nevezétek meg:

1. a térképen 9-es számmal jelölt várost;
2. a térképen 1-es számmal jelölt folyót.

4 pont

B. Írjátok a vizsgalagra az alábbi mondatokat kiegészítő helyes válaszokat:

1. A térképen **2**-es számmal jelölt folyó neve ...
2. A térképen **10**-es számmal jelölt város neve ...
3. A térképen **8**-as és **12**-es számokkal jelölt városok a ... domborzati egység területén találhatóak.

6 pont

C. Írjátok a vizsgalagra az alábbi állítások mindegyikére vonatkozó helyes válasz betűjelét:

1. A **6**-os számmal jelölt Duna folyóág:

- | | |
|-----------------------------------|---------------------|
| a. Borcea | b. Kilija (Chilia) |
| c. Szent-György (Sfântu Gheorghe) | d. Szulina (Sulina) |

2 pont

2. A mollikus (csernozjom) talajok nagy területeket foglalnak el a következő betűvel jelölt tájegységben:

- | | | | |
|------|------|------|------|
| a. A | b. F | c. G | d. H |
|------|------|------|------|

2 pont

3. Tengeri éghajlati hatás érződik a következő betűvel jelölt tájegység területén:

- | | | | |
|------|------|------|------|
| a. A | b. B | c. C | d. F |
|------|------|------|------|

2 pont

4. A térképen **7**-es számmal jelölt város neve:

- | | |
|-------------------------|----------------------------|
| a. Beszterce (Bistrița) | b. Kolozsvár (Cluj-Napoca) |
| c. Dés (Dej) | d. Szászrégen (Reghin) |

2 pont

5. A térképen **4**-es számmal jelölt folyó:

- a. a Bánsági-hegyvidék és a Retyezát-Godján hegycsoport közötti határt képezi
- b. a Páring hegycsoportból ered
- c. áthalad Petrozsényen (Petroșani)
- d. áthalad egy szénmedencén.

2 pont

D. Írjátok három különbséget a térképen **B** és **E** betűkkel jelölt tájegységek domborzata között.

1 Megjegyzés: A különbségek a **domborzat** következő jellemzőire vonatkozhatnak: kialakulási mód, közzetani felépítés, tengerszint feletti magasságok, tagoltság, domborzati típusok, a fontosabb hegységek és völgyek iránya, a medencék elhelyezkedése, más domborzati jellemzők.

2 Megjegyzés: A teljes pontszám csak abban az esetben adható meg, ha a különbségek összehasonlításképpen és nem külön-külön vannak leírva.

6 pont

E. Írjátok egy okot:

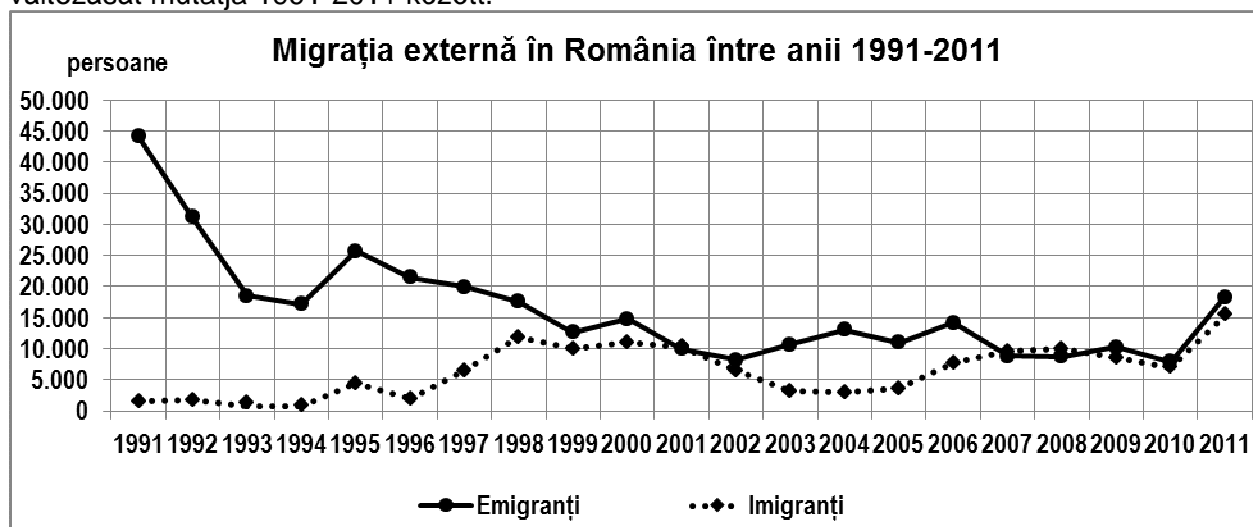
1. amiért a Bârladi-dombvidéken a földcsuszamlások bekövetkeznek.
2. amiért az abszolút minimum hőmérsékletet a Brassói-medencében mérték.

4 pont

III. Tétel

(30 pont)

Az alábbi grafikon a **III. Tétel A-B** pontjaira vonatkozik és Románia külső migrációjának a változását mutatja 1991-2011 között.



A. Írjátok le:

1. az évet, amikor a legnagyobb volt a kivándorlók (emigránsok) száma és a szám értékét;
2. az évet, amikor a legnagyobb volt a bevándorlók (immigránsok) száma;
3. az első évet, amikor a bevándorlók és a kivándorlók száma egyenlő volt.

4 pont

- B. 1.** Számítsátok ki a migrációs mérleget 2005-re vonatkozóan.
2. Határozzátok meg azt az időközt, amikor a legjobban csökkent a kivándorlás.
3. Írjátok egy társadalmi-gazdasági következményt a kivándorlók nagy számára vonatkozóan.

6 pont

C. Jellemezzétek **Ukrajnát** és írjátok le:

1. két domborzati egységének a nevét;
2. két folyójának a nevét;
3. két olyan szomszédos államának a nevét, amelyek tagjai az Európai Uniónak;
4. két városának a nevét;
5. két altalajkincsét.

10 pont

D. Az alábbi táblázat az Európai Unió kőolaj termelését és fogyasztását mutatja 2009-ben és 2010-ben.

Az Európai Unió kőolaj termelése és fogyasztása 2009-ben és 2010-ben.

| Év | 2009 | 2010 |
|-----------------------------------|------------|------------|
| EU kőolaj termelése (hordó/nap) | 2 365 000 | 2 263 000 |
| EU kőolaj fogyasztása (hordó/nap) | 13 630 000 | 13 680 000 |

forrás: www.indexmundi.com

Írjátok le:

1. hogy mennyivel csökkent az EU kőolaj termelése 2010-ben 2009-hez viszonyítva;
2. hogy mennyivel nőtt az EU kőolaj fogyasztása 2010-ben 2009-hez viszonyítva;
3. a fogyasztás és a kitermelés közötti legnagyobb különbséget és hogy ez melyik évben volt;
4. a kőolaj fogyasztás növekedésének egy hatását a környezetre;
5. egy kőolaj termelő ország nevét, amely tagja az EU-nak.

6 pont

E. Az alábbi táblázat a degradált és terméketlen területek nagyságának a változását mutatja Prahova és Călărași megyékben.

| A degradált és terméketlen területek nagyságának változása Prahova és Călărași megyékben, 2010 és 2013 között | | | | |
|---|--------------|------|------|------|
| Megye | Terület (ha) | | | |
| | 2010 | 2011 | 2012 | 2013 |
| Prahova | 7599 | 7739 | 8214 | 8379 |
| Călărași | 2359 | 2374 | 2355 | 2355 |

forrás: *Institutul Național de Statistică*

1. Írjátok egy okot, amiért különbségek vannak a két megye között a degradált és terméketlen területekre vonatkozóan.
2. Magyarazzátok meg azt a tényt, hogy Prahova megyében nőtt a degradált és terméketlen területek nagysága, míg Călărași megyében nagyjából ugyanakkorák maradtak ezek.

4 pont