

Examenul de bacalaureat național 2016
Proba E. d)
Geografie

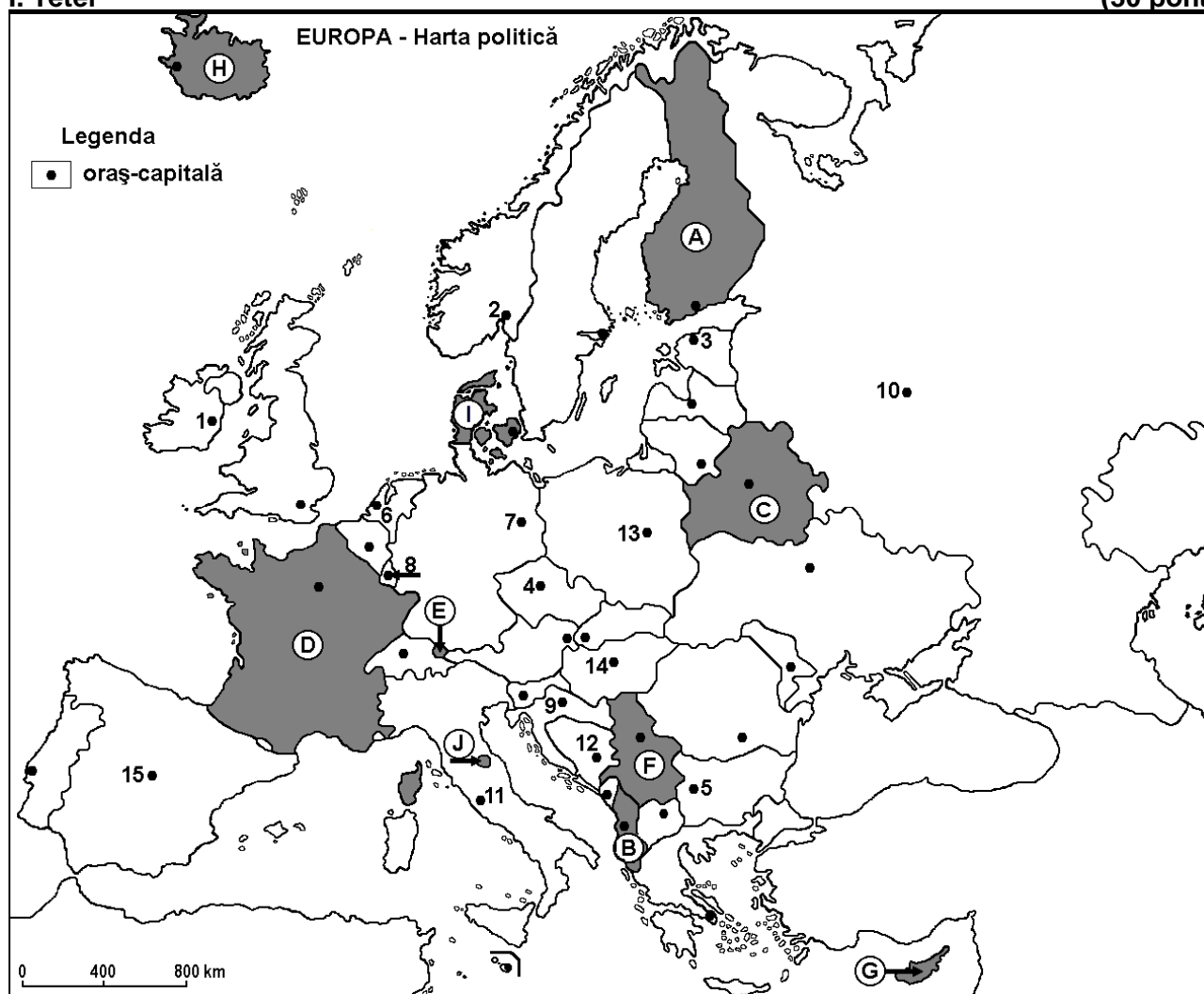
Simulare

Profilul umanist din filiera teoretică, profilul servicii din filiera tehnologică și toate profilurile și specializările din filiera vocațională, cu excepția profilului militar

- Toate subiectele sunt obligatorii. Se acordă 10 puncte din oficiu.
- Timpul efectiv de lucru este de 3 ore.

I. Tétel

(30 pont)



A fenti térkép az I. tétel A-D pontjaira vonatkozik. A térképen az országokat betűk, a fővárosokat számok jelölik.

A. Nevezétek meg:

1. a térképen I betűvel jelölt országot;
2. a térképen 1-es számmal jelölt fővárost.

4 pont

B. Írjátok a vizsgalpra az alábbi mondatokat kiegészítő helyes választ:

1. A térképen J betűvel jelölt ország fővárosa:
2. A Pireneusok északi lejtői a következő betűvel jelölt ország területén húzódnak ...
3. A térképen H betűvel jelölt ország neve ...

6 pont

C. Írjátok a vizsgalpra az alábbi állítások mindegyikére vonatkozó helyes válasz betűjelét:

1. Mérsékelt szárazföldi (kontinentális) éghajlat jellemző a következő betűvel jelölt országra:

a. B

b. C

c. G

d. H

2 pont

2. Földgáz, kőolajat és szenet bányásznak abban az országban, amelynek a fővárosát a következő szám jelöli:

- a. 1 b. 3 c. 8 d. 10 2 pont

3. A térképen **G** betűvel jelölt ország fővárosa:

- a. Nicosia b. Podgorica c. Szkopje d. Tirana 2 pont

4. Macchia típusú növényzet jellemző a következő betűvel jelölt ország déli részére:

- a. A b. D c. E d. I 2 pont

5. A Dinári-hegység egy szakasza húzódik a következő betűvel jelölt ország területén:

- a. A b. C c. D d. F 2 pont

D. Írjatok három különbséget a térképen **A** és **D** betűkkel jelölt országok éghajlata között:

1 Megjegyzés: A különbségek a következő éghajlati elemek bármelyikére vonatkozhatnak: éghajlati tényezők, éghajlati típus, évi/nyári/téli középhőmérsékletek, hőmérsékleti amplitúdó, évi/nyári/téli átlagos csapadék, gyakori szelek.

2 Megjegyzés: A teljes pontszám csak abban az esetben adható meg, ha a különbségek összehasonlítóképpen és nem külön-külön vannak leírva.

6 pont

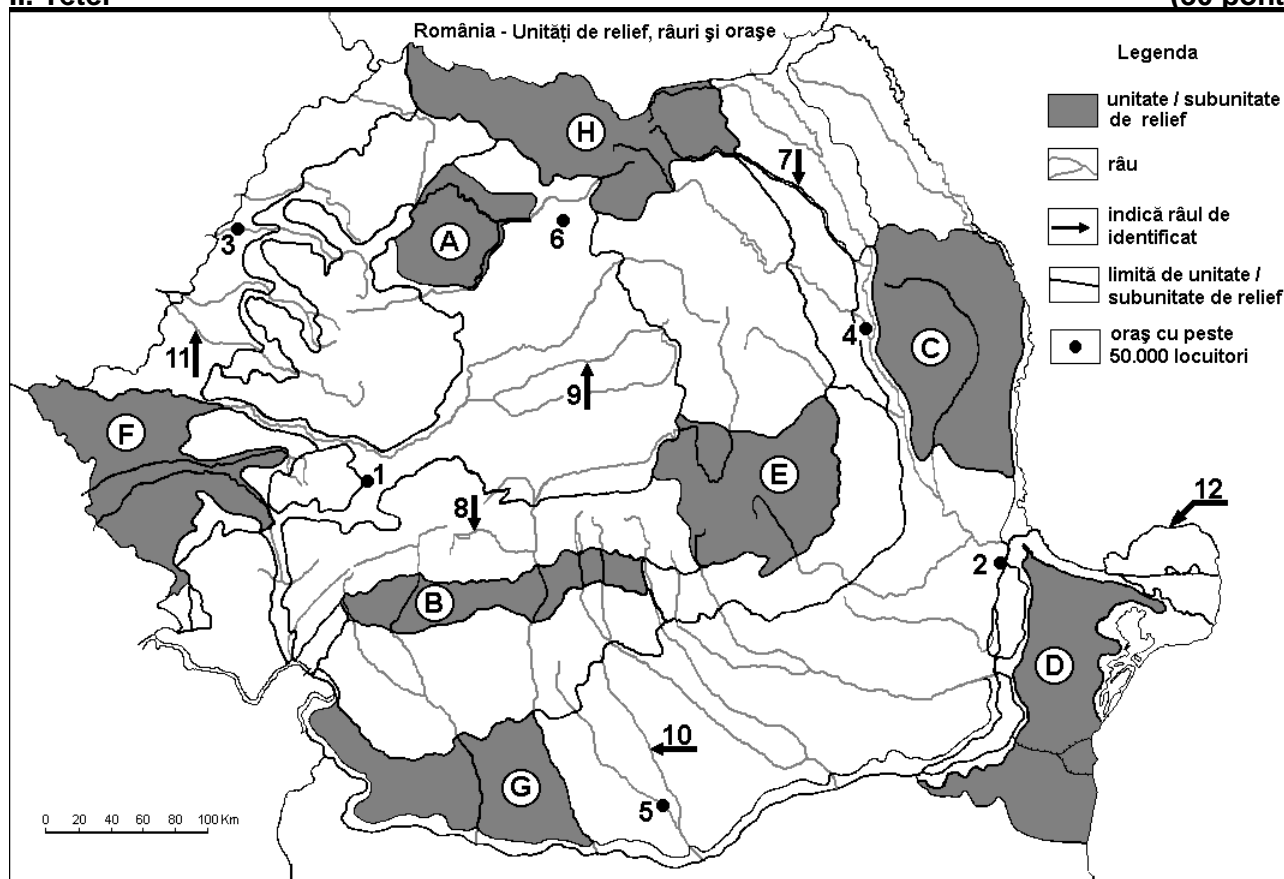
E. 1. Nevezetek meg egy olyan ércet, amelyet nyersanyagként hasznosítanak a vaskohászatban és egy európai országot, amelyben ezt az ércet kitermelik.

2. Nevezétek meg Európának a legnagyobb áruforgalmat lebonyolító tengeri-folyami kikötőjét és az országot, ahol ez található.

4 pont

II. Tétel

(30 pont)



A fenti térkép a II. tétel A-D pontjaira vonatkozik. A térképen a domborzati egységeket betűk, a városokat 1-6-os, a folyókat pedig 7-12-es számok jelölik.

A. Nevezétek meg:

1. a térképen 6-os számmal jelölt várost;
2. a térképen 11-es számmal jelölt folyót.

4 pont

B. Írjátok a vizsgalagra az alábbi mondatokat kiegészítő helyes választ:

1. A térképen **9**-es számmal jelölt folyó neve ...
2. A térképen **4**-es számmal jelölt város neve ...
3. Vaskohászati kombinát van a térképen a következő számmal jelölt városban ...

6 pont

C. Írjátok a vizsgalagra az alábbi állítások mindegyikére vonatkozó helyes válasz betűjelét:

1. Tengeri éghajlati hatás jellemző a következő betűvel jelölt domborzati egysége:

a. A b. B c. D d. H **2 pont**

2. Színesfémércek (réz, ólom, cink, arany, ezüst) találhatóak a következő betűvel jelölt domborzati egység területén:

a. C b. E c. F d. H **2 pont**

3. A térképen **5**-ös számmal jelölt város neve:

a. Alexandria b. Giurgiu c. Slatina d. Zimnicea **2 pont**

4. Hercíniai eredetű hegység húzódik a következő betűvel jelölt domborzati egység területén:

a. B b. C c. D d. E **2 pont**

5. A Duna a **12**-es számmal jelölt ágának a neve:

a. Borcea b. Kilija (Chilia) c. Szent György (Sfântu Gheorghe) d. Szulina (Sulina) **2 pont**

D. Írjátok három különbséget a térképen **C** és **E** betűkkel jelölt tájegységek domborzata között.

1 Megjegyzés: A különbségek **a domborzat** következő jellemzőire vonatkozhatnak: kialakulási mód, közzetani felépítés, tengerszint feletti magasságok, domborzati típusok, a lejtés iránya, más domborzati jellemzők.

2 Megjegyzés: A teljes pontszám csak abban az esetben adható meg, ha a különbségek összehasonlításképpen és nem külön-külön vannak leírva

6 pont

E. Az alábbi táblázat a szállodák számát mutatja néhány megyében, 2010-ben és 2015-ben.

| Megye | Szállodák száma 2010-ben | Szállodák száma 2015-ben |
|-----------------------------------|--------------------------|--------------------------|
| Krassó-Szörény (Caraș-Severin) | 23 | 31 |
| Prahova | 57 | 81 |
| Tulcea | 14 | 20 |

Forrás: Országos Statisztikai Hivatal

1. Magyarózzátok meg, hogy miért van több szálloda Prahova megyében, mint Krassó-Szörény megyében, amikor ez utóbbinak a területe szinte kétszer akkora, mint Prahova megye területe.
2. Magyarózzátok meg, a Tulcea és Krassó-Szörény megyékben található szállodák számának különbségét, bár a két megyének szinte ugyanakkora a területe.

4 pont

III. Tétel

(30 pont)

Az alábbi grafikon a III. Tétel **A-B** pontjaira vonatkozik és a Duna legfontosabb mellékfolyóinak a hosszát mutatja, a folyam alsó szakaszán.

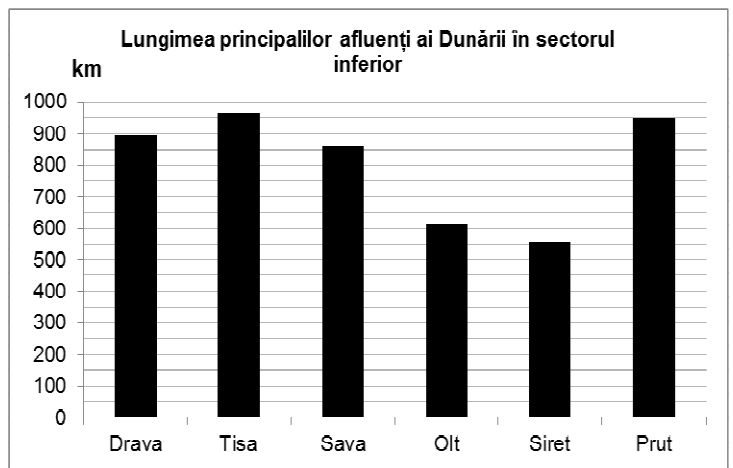
Forrás: The Danube River Basin. Facts and Figures, The International Commission for the Protection of the Danube River (ICPDR)

A. Nevezzétek meg:

1. a Dunának azt a mellékfolyóját, amely összegyűjti Románia nyugati részének a vizeit és írjátok le a hosszát;

2. a Duna utolsó mellékfolyóját, mielőtt az beleömlik a Fekete-tengerbe és írjátok le a hosszát.

4 pont



- B. 1.** Számítsátok ki, hogy a Prut hány kilométerrel hosszabb a Szeretnél (Siret).
2. Írjátok le, hogy e két folyó közül melyiknek nagyobb a vízhozama a Dunába való belefolyásuknál.
3. Írjátok egy okot, amiért a két folyónak különböző a vízhozama.

6 pont

C. Jellemezzétek **Moldova Köztársaságot** és írjátok le:

1. két szomszédos államának a nevét;
2. két folyójának a nevét;
3. éghajlati típusának a nevét;
4. három városának a nevét;
5. egy növényzeti típusának a nevét;
6. egy természetett növényét.

10 pont

D. Az alábbi táblázat Románia lakosságának a számát mutatja, az utolsó népszámlálásokkor.

| ROMÁNIA LAKOSSÁGA A KÖVETKEZŐ NÉPSZÁMLÁSOKKOR: | | | | |
|---|-------------|-------------|-------------|-------------|
| 1966 | 1977 | 1992 | 2002 | 2011 |
| 19.103.163 | 21.559.910 | 22.810.035 | 21.680.974 | 20.121.641 |

Forrás: Országos Statisztikai Hivatal

1. Számítsátok ki, hogy mennyivel nőtt Románia lakossága 1966-1977 között.
2. Számítsátok ki, hogy mennyivel csökkent Románia lakossága 2002-2011 között.
3. Írjátok két okot, amiért csökkent a lakosság 2002-2011 között.

6 pont

E. 1. Magyarázzátok meg, hogy a Skandináv-hegység nyugati lejtőin a csapadék mennyisége miért több évente, mint 1000 mm.

2 pont

2. Írjátok egy okot a talajok lepusztulására a mérsékelt szárazföldi (kontinentális) éghajlaton.

2 pont